


2. RAZRED - TOREK, 20. 4. 2021



SPOZNAVANJE OKOLJA



Spoznavanje okolja bomo imeli preko video srečanja. Potreboval boš **delovni zvezek za spoznavanje okolja** in **peresnico**.

<https://arnes-si.zoom.us/j/96960730329?pwd=ZHRQUnRKM0Jvd1licitodi9PWHdwZz09>

Se vidimo na Zoomu ob 9.00!

SLOVENŠČINA

MALE TISKANE ČRKE – PREVERIM SVOJE ZNANJE

Danes boš preveril, kako dobro si se naučil **male tiskane črke**.



V prilogi, čisto na koncu, te čakajo naloge. Piši z nalivko v zvezek **Pišem črke**. Ne pozabi na velike začetnice (zapiši jih z rdečo barvico) in piko na koncu povedi.

Ko končaš, naj ti starši naloge pregledajo in nalepijo ustreznega čebelčka, ki ga imaš v delovnem zvezku za slovenščino (priloga 3).

Potrudi se, saj bo v petek **ocenjevanje znanja**. Če imaš pri pisanju še težave, vadi.

MATEMATIKA

ODŠTEVAM DO 100

1. NALOGA: Pripravi si **snopiče s palčkami**. Vsak spodnji račun prikaži s snopiči:

$$60 - 2 =$$

$$40 - 3 =$$

$$50 - 8 =$$

$$100 - 5 =$$

$$30 - 4 =$$



UGOTOVIMO, DA MORAMO EN SNOPIČ PALČ RAZVEZATI, DA LAHKO ODVZAMEMO ENICE!

DZ – MAT, STR. 80, 81

A screenshot of a math workbook page. The left side shows exercises 14, 15, and 16. Exercise 14 shows four egg cartons with the equation $40 - 3 = 37$. Exercise 15 shows a string of 50 beads with 8 crossed out, and the equation $50 - 8 = 42$. Exercise 16 shows three packs of 10 beads and a 10x10 grid of beads. The right side shows exercises 17, 18, 19, and 20. Exercises 17 and 18 are subtraction problems. Exercises 19 and 20 are word problems. Exercises 19 and 20 are crossed out with a red diagonal line.

14. Kmet je v kurniku pobral 40 jajc. Tri so mu padla na tla in se razbila. Koliko celih jajc še ima?

$40 - 3 = 37$

Kmet ima še 37 celih jajc.

15. Ogledaj si sliko. Preberi račun.

$50 - 8 = 42$

16. Ogledaj si sliko. Napisi račun.

17. Odštej.

$10 - 2 =$	$10 - 4 =$	$10 - 5 =$
$50 - 2 =$	$90 - 4 =$	$50 - 5 =$
$70 - 2 =$	$20 - 4 =$	$30 - 5 =$

18. Odštej.

$80 - 1 =$	$60 - 6 =$	$90 - 2 =$
$60 - 3 =$	$40 - 4 =$	$80 - 4 =$
$40 - 5 =$	$80 - 2 =$	$70 - 3 =$
$20 - 7 =$	$60 - 2 =$	$60 - 9 =$
$30 - 7 =$	$40 - 6 =$	$100 - 8 =$

19. Na spomladanskem teku sodeluje 80 tekačev. V cilj je že prišlo 8 tekačev. Koliko tekačev še teče?

Odgovor: _____

20. Šivilja je imela 100 cm dolgo elastiko. Odrezala je 8 cm elastiko. Koliko centimetrov elastike ji je ostalo?

Odgovor: _____


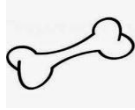
Reši vse naloge razen 19. in 20. nalogo.

PREVERIM SVOJE ZNANJE

1. Z malimi tiskanimi črkami prepiši slikopis. Namesto sličic zapiši besede.



MIKI JE PRINESEL



PIKA LOVI



SOSEDOV ANDREJ SE NAJRAJE IGRA Z



IN



2. Z malimi tiskanimi črkami zapiši, kaj je na vsaki sliki.



3. Opiši sliko v nekaj povedih.

