

2. RAZRED - TOREK, 19. 1. 2021



MATEMATIKA

SESTAVLJAMO RAČUNE

V DANAŠNJI URI SE BOŠ NAUČIL, KAKO LAHKO IZ TREH ŠTEVIL SESTAVIMO ŠTIRI RAČUNE.

POZORNO PRISLUHNI RAZLAGI: <https://www.youtube.com/watch?v=3l8p1juitls>



PRI SEŠTEVANJU JE NAJVEČJE ŠTEVILO VSOTA IN GA ZAPIŠEMO NA KONCU RAČUNA.

PRI ODŠTEVANJU PA JE NAJVEČJE ŠTEVILO ZMANJŠEVANEC IN GA ZAPIŠEMO NA ZAČETKU RAČUNA.

SVOJE ZNANJE BOŠ UTRDIL Z NALOGAMI V DZ - MAT 2. DEL stran 9/NALOGI 10, 11

10. SESTAVI PO 4 RAČUNE.

16	9	7
4	8	12

11. DOPOLNI SESTAVI PO 4 RAČUNE.

20	11	9
8	15	7

11. NALOGA JE NEKOLIKO TEŽJA.

6	13	19
---	----	----



11. NALOGA JE NEKOLIKO TEŽJA.

ŠTEVILA SI MORAŠ IZMISLITI TAKO, DA BODO TVORILA RAČUN.

IZMISLI SI 3 RAZLIČNA ŠTEVILA IN IZ NJIH SESTAVI 4 RAČUNE.

PRIMER:

7 5 12

$$7 + 5 = 12 \quad 12 - 7 = 5$$

$$5 + 7 = 12 \quad 12 - 5 = 7$$

ZA KONEC PA SE PREIZKUSI ŠE V REŠEVANJU KRATKIH BESEDILNIH NALOG.

STRAN 10/NALOGA 12.

NATANČNO
PREBERI!

IZRAČUNAJ VSOTO ŠTEVIL 9 IN 5.
KOLIKO DOBIŠ?

ODGOVOR: _____

IZRAČUNAJ RAZLIKO ŠTEVIL 17 IN 8.
KOLIKO DOBIŠ?

ODGOVOR: _____

KOLIKO DOBIŠ, ČE ŠTEVILU
6 PRISTEJEŠ 8?

ODGOVOR: _____

KOLIKO MORŠ ODŠTETI OD
ŠTEVILA 15, DA DOBIŠ 4?

ODGOVOR: _____

ČE OD NEKEGA ŠTEVILA
ODŠTEJEŠ 7, DOBIŠ 6.
KATERO ŠTEVILO JE TO?


ODGOVOR: _____

KATEREMU ŠTEVILU MORŠ
PRISTETI 5, DA DOBIŠ 11?

ODGOVOR: _____

VSOTA - REZULTAT SEŠTEVANJA +

RAZLIKA - REZULTAT ODŠTEVANJA -



SLOVENŠČINA

BRANJE SLIKOPISA, PREPIS

PO ELEKTRONSKI POŠTI SEM VČERAJ STARŠEM POSLALA 2 SLIKOPISA Z MALIMI TISKANIMI ČRKAMI (**PLANINCA, KAKO BO POLETI**). NAJDEŠ JU TUDI V PRILOGI NA ZADNJI STRANI. DANES JE TVOJA NALOGA, DA SI IZBEREŠ ENEGA IN VADIŠ GLASNO BRANJE. BOLJŠI BRALCI BERETE OBA. NAUČI SE GA GLADKO BRATI.

NATO PA VZEMI ZVEZEK **PIŠEM ČRKE** IN Z RDEČO BARVICO PREPIŠI NASLOV SLIKOPISA, KI SI GA BRAL. IZBERI SI 3 ALI 4 POVEDI IN JIH **PREPIŠI**. PIŠI Z MALIMI TISKANIMI ČRKAMI. SLIČICE LAHKO NARIŠEŠ ALI NAPIŠEŠ Z BESEDO.



SPOZNAVANJE OKOLJA

LETNI ČASI IN MESECI



PRIPRAVI ZVEZEK ZA SPO, DELOVNI ZVEZEK IN PERESNICO.

OGLEJ SI PREDSTAVITEV NA SPLETNI STRANI IN SLEDI NAVODILOM.

GLASBENA UMETNOST

VALČEK

DANES BOMO PRI GLASBENI UMETNOSTI PLESALI PLES VALČEK. VEČ O TEM PLESU BOŠ IZVEDEL V PREDSTAVITVI NA SPODNJI POVEZAVI:

<https://www.youtube.com/watch?v=ev-Ps1fsy0Q>



Planinca





Nina

in



Mark

 in  sta dvojčka. Obiskujeta planinski krožek. V soboto sta odšla na planinski izlet.

Za izlet sta se primerno pripravila. Mark je obul



in planinske



. Oblekel je

športne



in

je povezal



. Nina je obula planinske



. Oblekla je dolge



in



. Glavo si je pokrila s



. Skupaj z

mamico sta pripravila vsak svoj



. V



sta zložila



, čokolado

in vrečko za odpadke.



je vzel tudi



.

Kako bo poleti



Samo

bo šel na



. Plaval bo z



in

se vozil s



. Takole –



iz



naredi



in se vkrca.



Katarina

bo

mornarka,



pa potnik. Pred njimi je veliko

pustolovščin, skritih



,



in

nepozabnih dogodivščin.