

2. RAZRED - TOREK, 15. 12. 2020

SLOVENŠČINA



MALA TISKANA ABECEDA - BEREM, PIŠEM

JUHUUU, SEDAJ PA POZNAŠ ŽE VSE MALE TISKANE ČRKE....

ZATO TE ČAKA DELO V DELOVNEM ZVEZKU ZA OPISMENJEVANJE, STRAN 84.

BERI, POVIŠI IN PREŠI POVEDI	
V hiši so 	• stavnice. • stolpnice. • stopnice.
V hiši so	
Voda teče iz 	• pite. • pipe. • pike.
Pred hišo sedi 	• polh. • polž. • pes.
V cvetličarni sem kupil 	• sotor. • šopek. • sal.


KDOR ŽELILAHKO VADI TUDI BRANJE Z NALOGO, KI SE SKRIVA POD ČEBELČKOM . DODATNE NALOGE NAJDEŠ NA WWW.LILIBI.SI.

NA STRANI 85 PA SE NAUČI BRATI BESEDILO **MOJ KANARČEK**. PREBERI GA STARŠEM.

MOJ KANARČEK

Imam ptička kanarčka. Telo ima pokrito z belim perjem. Glavico mu krasi rjava čopka. Živi v modri kletki. Rad je sladkor v kockah in pomarančo. Ko pridem iz šole, veselo čeblja.

Hana Novak



UČENCI, KI STE ŽE DOBRI BRALCI, BERITE TUDI OSTALI DVE BESEDILI NA STRANI 85.

MATEMATIKA



NEZNANI ČLEN - IŠČEM ODŠTEVANEC

$$11 - \underline{6} = 5$$

ODPRI DZ – MAT, STR. 55 IN POZORNO POSLUŠAJ RAZLAGO NA SPODNJI POVEZAVI:



IŠČEM ODŠTEVANEC

LIZA JE NABRALA 11 JURČKOV. NEKAJ JIH JE PODARILA BABICI. SEDAJ JIH IMA SEŠ.

PRED:  **POTEM:** 

KOLIKO JURČKOV JE LIZA PODARILA BABICI?
 $11 - \underline{6} = 5$
LIZA JE BABICI PODARILA 6 JURČKOV.

GASPER JE NABIRAL KOSTANJE. KO JIH JE IMEL V KOŠARI 18, SE JE SPOTAKNIL IN NEKAJ KOSTANJEV MU JE PADLO IZ KOŠARE. V KOŠARI JE OSTALO 15 KOSTANJEV.

PRED:  **POTEM:** 

KOLIKO KOSTANJEV JE PADLO IZ KOŠARE?
 $18 - \underline{\quad} = 15$
IZ KOŠARE SO PADLI KOSTANJEV.

<https://www.youtube.com/watch?v=65W1D6N1Hp4>


REŠI RAČUNSKO ZGODBICO.

SVOJE ZNANJE BOŠ DANES UTRDIL Z RAČUNANJEM V **ZVEZKU ZA MATEMATIKO**. ODPRI GA IN NAPIŠI NASLOV **VAJA**. PREPIŠI SPODNJE RAČUNE IN JIH IZRAČUNAJ.

RAČUNE, PRI KATERIH IŠČEMO NEZNANI ČLEN LAHKO ZAPIŠEMO NA DVA NAČINA.

1. S ČRTICO: $11 - \underline{\quad} = 5$

2. S KVADRATKOM: $11 - \square = 5$ V KARO ZVEZEK RIŠEMO KVADRATKE!



POMAGAŠ SI LAHKO Z RAČUNOM ODŠTEVANJA.

$$12 - \underline{\quad} = 10$$

$$12 - 10 = 2$$

$$12 - \square = 10$$

$$13 - \square = 8$$

$$18 - \square = 9$$

$$14 - \square = 7$$

$$16 - \square = 14$$

$$20 - \square = 10$$

$$15 - \square = 15$$

$$7 - \square = 0$$

$$11 - \square = 8$$

$$13 - \square = 9$$

Starši, če je za katerega izmed otrok preveč, naj prepíše in izračuna samo 1 kupček.



DODATNA NALOGA TE ČAKA NA SPLETU. POSKUSI!!

<https://wordwall.net/resource/6689392/i%c5%a1%c4%8dem-od%c5%a1tevanec>

<https://wordwall.net/resource/7742066/i%C5%A1%C4%8Dem-od%C5%A1tevanec>

SPOZNAVANJE OKOLJA (2 URI)

VSako ŽIVO BITJE SE ENKRAT RODI IN ENKRAT UMRE



POGLEJ SI PREDSTAVITEV NA SPLETNI STRANI ŠOLE.



NE POZABI PREPISATI
V ZVEZEK ZA SPO
ZADNJE PROSOJNICE!