

NAVODILA ZA DELO DOMA_3. bu

Pozdravljen/a!

Pouk na daljavo se še kar nadaljuje. Pred nami je že 4. teden. Pripravila sem ti navodila za delo doma po urniku od ponedeljka do petka. Ta teden bo manj obveznosti, le 12 ur pouka ter v petek, 10. 4. 2020 je predviden tehniški dan. Navodila za tehniški dan boš dobil/a do četrтка, 9. 4. 2020.

Svetujem ti, da vsak dan vadiš poštrevanko, uro ter da bereš najmanj 10 minut.

Želim ti veliko uspeha pri delu, veliko zdravja in izkoristi čas z družino. Pa kakšen pirh pojej! Bližajo se velikonočni prazniki.



Učiteljica *Biljana*

PONEDELJEK, 6. 4. 2020

- **ŠPORT** (glej povezavo: <https://www.osagpostojna.si/bukovje/>)

- **SLOVENŠČINA (1 uro)**
 - **SDZ str. 33: POROČILO**

1.) V slovarju SSKJ (klikni na povezavo <https://fran.si/>) vtipkaj eno po eno besedo in si preberi kaj pomenijo: poročilo, kustos, obrtnik, grič, zbirka, tekstil, kolarstvo, usnjarstvo, ljudski pesnik, črna kuhinja, galerija.

2.) V e- gradivu na <https://www.lilibi.si/> strani, poišči SLJ SDZ 2, odpri na strani 33 ter najdi 1. zvočnik. Naj ti pomaga nekdo od staršev.)



3.) Prvo poslušanje: Klikni na 1. zvočnik in zbrano poslušaj 1. posnetek: Poročilo o kulturnem dnevu.

4.) Ustno odgovori na spodnja vprašanja nekomu od domačih.

Kako je bilo naslov oddaje, ki si jo poslušal/a?

Kdo je napisal poročilo?

Koliko različnih glasov ste slišali? Komu so pripadali?

Katerega dne so imeli na šoli kulturni dan?

Ob kateri uri so se učenci in učitelji zbrali pred šolo?

Kdaj so se odpeljali izpred šole?

Kaj so videli v starem delu mesta? Kako se imenuje stavba, ki stoji nad mestom?

Kdo jih je čakal pred muzejem? Kaj je gospod Šter po poklicu?

Kaj so si učenci in učitelji ogledali pod njegovim vodstvom?

Katere obrtniške zbirke jim je pokazal gospod kustos?

Kaj je v čevljarski zbirki?

Kako se imenuje hiša, ki so jo obiskali? Kdo se je rodil v Kurnikovi hiši?

Kakšna kuhinja je v Kurnikovi hiši?

Kaj so si v Tekačevi galeriji ogledali učenci?

Ob kateri uri so se spet zbrali na tržiški avtobusni postaji?

5.) Drugo poslušanje (V e- gradivu na <https://www.lilibi.si/> strani, poišči SLJ SDZ 2, odpri na strani 33 ter najdi 2. zvočnik. Naj ti pomaga nekdo od staršev.)



6.) Klikni na 2. zvočnik in zbrano poslušaj 2. posnetek.

Odgovori.

Kaj je bilo spremenjeno v drugem besedilu?

7.) SDZ 2, str. 33: 1., 2., 3. naloga: Samostojno reši naloge.

➤ **GLASBENA UMETNOST** (glej mail učiteljice Špele)

TOREK, 7. 4. 2020

SLOVENŠČINA (1 uro)

• **SDZ 2, STR. 34: SPOZNALI SMO**

1.) Preberi strip in odgovori.

Kdo nastopa v njem?

Zakaj so nekatera števila napisana s piko, druga pa brez pike?

Poišči ženski par moškemu.

2.) Preberi besedilo pri Binetu.

Kako imenujemo besedilo, ki ga je predstavil Bine? Zakaj je beseda čestitam napisana krepko? Komu je čestital Bine? Za kaj je čestital? Je Binetova čestitka pisna ali ustna? Zakaj je številka ena napisana s piko?

3.) Preberi besedilo pri Lili.

Zakaj je beseda hvala napisana krepko? Kaj izraža beseda hvala? Komu se je zahvalila Lili? Za kaj se je zahvalila?

• **SDZ 2, STR. 35 - 37: PREVERIM SVOJE ZNANJE**

1.) V e- gradivu na <https://www.lilibi.si/> strani, poišči SLJ SDZ 2, odpri na strani 35 ter najdi zvočnik. Naj ti pomaga nekdo od staršev.)

2.) Prvo poslušanje. Zbrano poslušaj posnetek. Klikni na zvočnik. Domači naj ti ga predvajajo **dvakrat**.

3.) Reši 1. in 2. nalogo.



4.) Drugo poslušanje

Najprej si oglej 3. in 4. nalogo. Posnetek poslušaj še **enkrat**.

5.) Reši 3. in 4. nalogo.

6.) SDZ 2, str. 36, 37/ 5.–9. naloga

Reši naloge.

➤ **MATEMATIKA (1 uro)**

- **SDZ 2, str. 76 – 78: POŠTEVANKA ŠT. 7, DELJENJE S 7**

1.) S konkretnim materialom (lego kocke, sponke, fižolčki) nastavi npr. 3 množice s po 7 elementi.

2.) Ustno odgovori na vprašanja.

Koliko množic so nastavl/a?

Koliko članov ima vsaka množica?

Koliko je vseh članov?

(3, 7, 21)

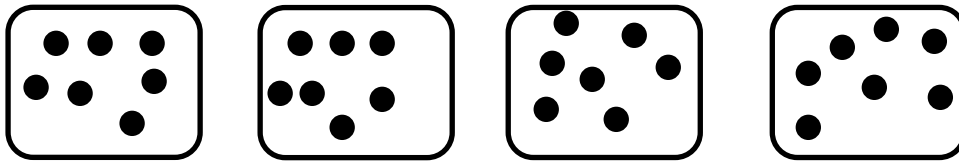
Še nekaj primerov nastavi:

Nastavi 6 skupin s po 7 lego kock. Koliko je vseh članov?

Nastavi 4 skupin po 7 lego kock. Koliko je vseh članov?

3.) Prepiši v zvezek za matematiko:

POŠTEVANKA ŠTEVILA 7



$$7 + 7 + 7 + 7 = 28$$

$$4 \cdot 7 = 28$$

$$1 \cdot 7 = 7$$

$$2 \cdot 7 = 14$$

$$3 \cdot 7 = 21$$

$$4 \cdot 7 = 28$$

$$5 \cdot 7 = 35$$

$$6 \cdot 7 = 42$$

$$7 \cdot 7 = 49$$

$$8 \cdot 7 = 56$$

$$9 \cdot 7 = 63$$

$$10 \cdot 7 = 70$$

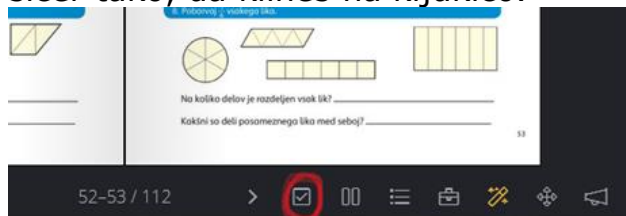
Tole je nov račun, ki si ga boš moral/a zapomniti. Ostale že poznaš iz ostalih poštevank!

7, 14, 21, 28, 35, 42, 49, 56, 63 in 70 SO VEČKRATNIKI ŠTEVILA 7.

- NAUČI SE POŠTEVANKO ŠTEVILA 7!

4.) Reši naloge v SDZ str. 76, 77

Preveri rešitve. Preveri na <https://www.lilibi.si/>, če si pravilno rešil/a, in sicer tako, da klineš na kljukico.



5.) Prepiši v zvezek za matematiko:

VAJA

$$\underline{\quad} \cdot 7 = 14$$

$$8 \cdot \underline{\quad} = 56$$

$$\underline{\quad} \cdot 9 = 63$$

$$7 \cdot \underline{\quad} = 49$$

DELJENJE S 7

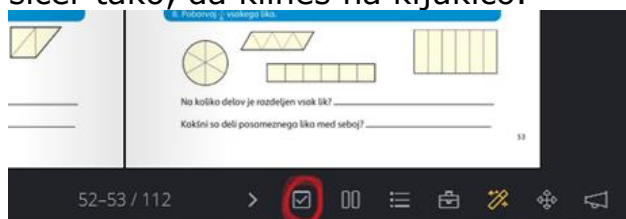
Žan ima 14 bonbonov. Bonbone je razdelil med 7 sošolcev tako, da je vsak izmed njih dobil enako mnogo. Koliko bonbonov je dobil vsak sošolec?
Nariši.

R: $14 : 7 = 2$, ker je $2 \cdot 7 = 14$

O: Vsak sošolec je dobil 2 bonbona.

6.) Reši naloge v SDZ na strani 78.

Preveri rešitve. Preveri na <https://www.lilibi.si/>, če si pravilno rešil/a, in sicer tako, da klineš na kljukico.



➤ **SPOZNAVANJE OKOLJA (1 uro)**

1.) Ponovimo pojem DEDIŠČINA. Preberi učni list (glej prilogo). Zalepi ga v zvezek za SPO. Dopiši na črto, kaj vse spada h kulturni in kaj k naravni dediščini.

2.) Ponovimo o muzejih. Poglej si učni list. Mogoče prepoznaš kakšno sliko? Če imaš možnost, si tudi ta učni prilepi v zvezek.

3.) Dediščina našega kraja.

Verjetno si iz intervjuja pridobil/a veliko zanimivosti o preteklosti kraja, kjer živiš. Spodaj si še preberi o dediščini:

BUKOVJE; ime izhaja iz imena dreves

- staro ime Pouch
- Martinova kašča
- stara šola in vrtec (podrtija)
- izvir, vodnjak in napajališče
- spomenik padlim v NOB
- Martinova kapelica
- hiša tete Jerice – črna kuhinja

BELSKO; ime izhaja iz predvidevanj, da so bili vse vzpetine okoli vasi neporaščene

- cerkev Svetega Justa
- izviri vode
- Godmanova in Požarjeva kašča
- spomenik padlim borcem
- stara žaga in mlinsko kolo
- lipa pred cerkvijo

STRMCA je dobila ime najverjetneje po gradu

- Ježeva hiša
- vodnjak
- cerkev
- spomenik padlim borcem

PREDJAMA

- Predjamski grad
- cerkev
- jama
- kašča
- lipa
- potok Lokva

GORENJE

- cerkev Sv. Lenarta

- tri zidanice
- tri izviri
- križi
- spominska plošča požiga vasi

Čez naše kraje je nekoč potekala **JAMBORNA CESTA**. Gre za cestno povezavo med Planino in Razdrtim čez vasi pod Goro in Nanosom. Povezovala je kraje srednje Evrope s pristanišči v Benetkah ali Trstu. Po tej stari rimski cesti je potekal zelo živahen promet, predvsem lesa za potrebe ladjedelnic.

Ena pomembnejših stranskih cest je bila **LEDENA POT**, ki je vodila iz smeri planote Hrušica. Ime je dobila po Ledeni jami in ledu, ki so ga včasih vozili po njej.

V prilogi si lahko prebereš še legendo o vitezu Erazmu.

4.) Sedaj, ko si prebal vse o dediščini Bukovja ter okoliških vaseh ter zbral/a vse podatke iz intervjuja, izpolni v SDZ na strani 63/ 1. nalogo.

SREDA, 8. 4. 2020

- **ŠPORT** (glej povezavo: <https://www.osagpostojna.si/bukovje/>)
- **MATEMATIKA (1 uro)**
 - **SDZ 2, str. 79, 80, 81: DAN, TEDEN, POŠTEVANKE ŠT. 2-10 (za utrjevanje – lahko vadiš čez cel teden)**

1.) Sposodi si koledar (lahko uporabiš tistega iz SPO) in ustno odgovori na spodnja vprašanja:

Koliko mesecev ima eno leto?

Kateri so jesenski/zimski/pomladni/poletni meseci?

Kateri mesec je pred/za mesecem aprilom...?

Kateri mesec je 4., 10., 12. ... po vrsti?

Koliko dni imajo posamezni meseci?

Mogoče poznaš »trik« s členki na rokah? Če ne, naj ti ga pokaže kdo od domačih.

Koliko dni ima teden?

Kako si dnevi sledijo po vrsti?

Če je danes sreda, kateri dan je bil včeraj/predvčerajšnjim, bo jutri/pojutrišnjem?

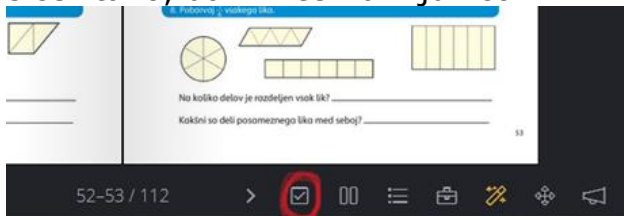
Kateri dan bo čez 5 dni?

ZAPOMNI SI! 1 TEDEN IMA 7 DNI.

2.) Reši naloge v SDZ na strani 79.

3.) Utrjevanje poštevanke: Samostojno reši naloge v SDZ str. 80, 81/1., 2., 4. naloge. Pri 3. nalogi si izberi 2 besedilni nalogi in ju reši v zvezek. Pazi na zapis merskih enot, kjer je to potrebno.

Preveri rešitve. Preveri na <https://www.lilibi.si/>, če si pravilno rešil/a, in sicer tako, da klineš na kljukico.



UČITELJICA SVETUJE:

Če klikneš na spodnjo povezavo, prideš do spletnega delovnega zvezka,

https://folio.rokus-klett.si/?credit=LIB3SDZMAT2_2015&pages=76-77

in če klikneš na zeleno čebelico, prideš do dodatnih nalog v obliki računalniških iger. Poskusi.

➤ LIKOVNA UMETNOST (1 uro)


1.) Doma poišči nek star predmet, lahko tistega, ki si že ga uporabil/a pri SPO.

2.) Potreboval/a boš papir, svinčnik in radirko. Pred sabo postavi star predmet, dobro ga opazuj in začni risati s svinčnikom.

3.) Risbo čim manj radiraj. Če boš različno močnim pritiskal/a s svinčnikom boš dobil/a različno izrazite črte.

Likovni izdelek mora biti:

1. Čist.
2. Izviren (slika z interneta ti je samo v oporo).
3. Ves prostor na papirju je izkoriščen.
4. Izdelek je dodelan (slika mora biti dokončana).



Prosim te, da mi pošlješ likovni izdelek v vpogled do petka, 10. 4. 2020. Svoj izdelek fotografiraj s telefonom in ga pošlji po elektronski pošti. Pri tem naj ti pomagajo starši.

ČETRTEK, 9. 4. 2020

➤ SLOVENŠČINA (1 uro)

- **SDZ 2, str. 48: NARCISA**

1.) SDZ 2, str. 48: Najprej preberi naslov, ogledaj si fotografijo. Kaj misliš, kaj bo besedilo opisovalo?

2.) Preberi besedilo.

Kaj si si zapomnil/a? Poročaj enemu od staršev.

3.) Besedilo preberi še enkrat.

4.) Po branju. Vprašanja naj ti zastavi kdo od domačih.

Naštej glavne sestavne dele narcise (pomagaj si z ilustracijo s poimenovanimi deli rastline).

Koliko cvetnih listov ima cvet? Kakšne barve so cvetni listi? Kaj pomeni, da je cvet someren? Kaj je v sredini cveta? Ali imajo tudi druge rastline privenček? Kaj je v privenčku?

Kje stoji cvet? Kako visoko je steblo? Kaj je na stebelu pod cvetom?

Kaj ima narcisa v zemlji? Kaj raste iz čebulice? Kakšne so koreninice?

Čemu služijo koreninice? Kje je čebulica čez zimo? Kaj zraste spomladi iz čebulice?

Kje raste narcisa?

Bi mogoče vedel/a kje v Sloveniji je najbolj znano rastišče gorskih narcis? (Golica nad Jesenicami)

Kaj pomeni, da so narcise na Golici zaščitene rastline?



Narcise na Golici

Narcisi rečejo tudi ključavnica.

Zakaj misliš, da se zaščiteno rastlino ne sme trgati?

Narcise prodajajo tudi v cvetličarnah, na tržnicah in v trgovinah. Ali jih natrgajo na travnikih? Kje pa jih dobijo?

5.) naloga

Samostojno reši nalogo v zvezek.

Odgovarjaj v celih povedih, pazi na pravopis in ločila, najprej napiši naslov **Narcisa**. Pozoren bodi na estetskost in čitljivost napisanega. Piši z nalivnim peresom!

Prosim te, da mi pošlješ nalogo v vpogled do petka, 10. 4. 2020. Svoj nalogo fotografiraj s telefonom in jo pošlji po elektronski pošti. Pri tem naj ti pomagajo starši.

UČITELJICA SVETUJE

Če želiš te čebelčka pri naslovu Narcisa pripeljeta do nalog za razumevanje prebranega. Poskusi.

➤ **ŠPORT** (glej povezavo:
<https://www.osagpostojna.si/bukovje/>)

➤ **SPOZNAVANJE OKOLJA (1 ura)**

1.) Zgodovina naše šole. Preberi si.

ŠOLA V BUKOVJU

Leta 1903 je bila zgrajena šola.

1906 se je v šoli začel pouk. Bilo je 115 učencev od 1. do 8. razreda.

Od leta **1906 do 1926** je pouk potekal v slovenščini.

Po 1926 je pouk potekal v italijanskem jeziku.

Med vojno je bil v pritličju vojaški hlev za konje.

Letos naša šola praznuje **114.** obletnico delovanja.

2.) Sedaj, ko si prebal o zgodovini šole, izpolni v SDZ na strani 64/ 2. nalogo: Pomembni dogodki v zgodovini naše šole.

3.) Šege in navade v Bukovju

V našem kraju se je ohranilo:

- pustovanje: predvsem otroci so šemijo v pustna oblačila in obiskujejo hiše,

- cvetna nedelja: je nedelja pred veliko nočjo. Začenja se z blagoslovom zelenja pred cerkvijo. Zelenje (oljčne vejice in različne vrste butar) verniki blagoslovljenega nesejo domov,

- kresovanje: 30. aprila vsaka vas prižge svoj kres,
- koledovanje: okrog božiča koledniki obišejo hiše in s pesmijo domačinu voščijo srečno novo leto,
- žegnanje konj pri kozolcu toplarju v Belskem vsakega 26. decembra.

4.) Sedaj, ko si prebal o šegah in navadah v našem kraju, izpolni v SDZ na strani 64/ 2. nalogo: Ali so se v tvojem kraju ohranile posebne šege ali navade. Katere?

5.) Preberi si še.

Leta 1978 sta Miroslav Pahor in Ilonka Hajnal pričela raziskovati pozabljeno prometno žilo, ki je bila svoj čas tako živahna in prometna – staro rimsko cesto imenovano tudi Jamborno cesto. Napisala sta knjigo **Po jamborni cesti...v mesto na Peklu**. V njej je zelo natančno opisana zgodovina naših krajev.

V knjigi Andreje Penko **Naše korenine – sledovi davnine na obrobju pivškega** lahko preberete še veliko drugih zanimivosti iz zgodovine naših krajev.

6.) Reši še zadnji dve vprašanji v SDZ na strani 64.

Učiteljica svetuje:

Zelo aktivno je **Turistično društvo Pudgura**, ki zajema vasi Studeno, Strmca, Lohača, Belsko, Gorenje, Predjama in Bukovje. Njihov glavni namen je ohranjanje dediščine ter obujanje starih običajev in navad. Pobrskaj po njihovi spletni strani:

<https://pudgura.com/index.php/sl/>

PETEK, 10. 4. 2020

TEHNIŠKI DAN (3 ure)

Navodila za tehniški dan boš dobil do petka.